
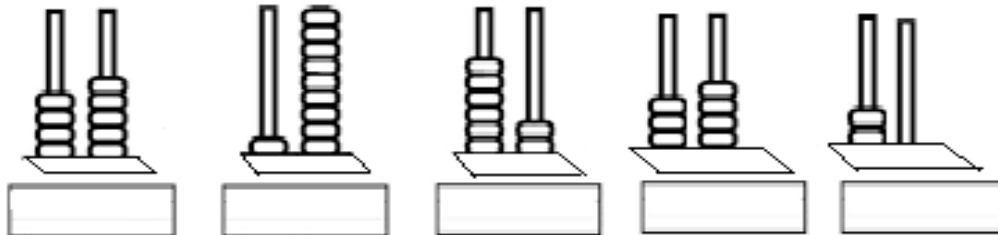
	INSTITUCIÓN EDUCATIVA HECTOR ABAD GOMEZ		
	Proceso: CURRICULAR	Código	
Nombre del Documento: Plan de mejoramiento		Versión 01	Página 1 de 1

ASIGNATURA /AREA	Matemáticas	GRADO:	Primero
PERÍODO	tres	AÑO:	2022
NOMBRE DEL ESTUDIANTE			

1. Utilizando diferentes colores, relaciona con una flecha el número con su nombre:

- | | |
|----|--------------------|
| 73 | Treinta y seis |
| 36 | Cuarenta y ocho |
| 48 | Setenta y tres |
| 54 | Noventa y nueve |
| 99 | Cincuenta y cuatro |

2. Escribe los números que están representados en cada ábaco:



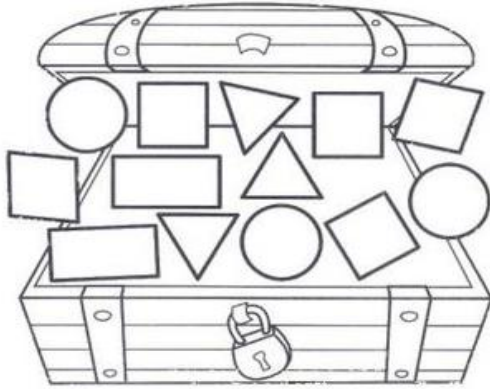
3. Escribe en el espacio el número que hace falta para completar cada suma o resta:

$\begin{array}{ c c } \hline 6 & 9 \\ \hline \hline \hline \end{array} + \begin{array}{ c c } \hline 3 & 8 \\ \hline \hline \hline \end{array} + \begin{array}{ c c } \hline \quad & \quad \\ \hline \hline \hline \end{array} - \begin{array}{ c c } \hline 4 & \quad \\ \hline \hline \hline \end{array} + \begin{array}{ c c } \hline 7 & 8 \\ \hline \hline \hline \end{array} -$				
$\begin{array}{ c c } \hline \hline \hline \hline \end{array}$	$\begin{array}{ c c } \hline \hline \hline \hline \end{array}$	$\begin{array}{ c c } \hline 2 & 6 \\ \hline \hline \hline \end{array}$	$\begin{array}{ c c } \hline \hline 2 \\ \hline \hline \hline \end{array}$	$\begin{array}{ c c } \hline \hline \hline \hline \end{array}$
$\begin{array}{ c c } \hline 9 & 2 \\ \hline \hline \hline \end{array}$	$\begin{array}{ c c } \hline 5 & 6 \\ \hline \hline \hline \end{array}$	$\begin{array}{ c c } \hline 7 & 2 \\ \hline \hline \hline \end{array}$	$\begin{array}{ c c } \hline 8 & 7 \\ \hline \hline \hline \end{array}$	$\begin{array}{ c c } \hline 4 & 0 \\ \hline \hline \hline \end{array}$

4. A Santiago le ofrecen boletas para una rifa con los siguientes números. Si él quiere un número que tenga: 6 decenas y 9 unidades. ¿Cuál es? _____. Subraya el que cumple con esta condición:

12	65	72
98	87	54
69	56	18

5. Colorea del mismo color las figuras iguales y escribe debajo de cada figura la cantidad:



6. Encierra los números que pertenecen a cada familia:

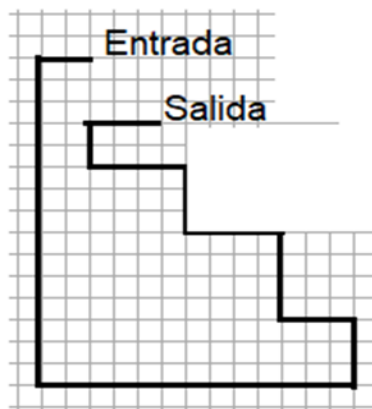
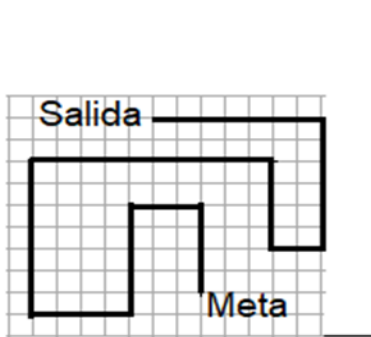
90

28 92 42 97
 94 93 35 83
 31 95 57 10
 96 98 91

60

65 92 42 97 62
 28 61 35 83
 64 93 57 69 10
 31 95 67 91
 96 63 98 68 66

7. Escribe la medida de cada imagen, teniendo en cuenta la medida del cuadrito y colorea el más largo.

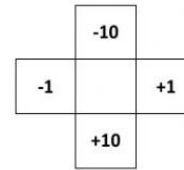


8. Encierra el número mayor de cada fila:

21	28	35	18
54	63	51	57
83	89	80	88

9. Escribe los números que faltan en la tabla:

1	2		4		6	7	8		10
	12		14	15	16	17	18	19	20
	22		24	25		27	28	29	
31	32	33		35		37	38	39	40
41		43	44	45	46	47			50
51		53	54	55	56	57	58	59	
		63	64		66	67	68		
71	72	73	74	75			78	79	80
81	82		84		86	87	88		90
	92	93	94	95			98	99	



10. Luis y Carlos juegan tiro al blanco, los resultados se muestran en la imagen. Realiza cada suma ¿Cuál de los dos tuvo mayor puntaje? _____

+

Puntaje de Luis

+

Puntuaje de Carlos